

TOPOGRAFIJA JAKEC - 2010



Ime skupine: _____

1) Kaj je karta?

/10

2) Kaj je merilo in kako ga podajamo?

/10

3) Kaj je reambulacija karte?

/10

4) Kaj je naklon? (obkroži črko pred pravilnim odgovorom)






- a. Horizontalni kot, ki ga oklepata horizontalna ravnina našega očesa in premica skozi opazovano točko.
- b. Vertikalni kot, ki ga oklepata vertikalna ravnina našega očesa in premica skozi opazovano točko.
- c. Vertikalni kot, ki ga oklepata horizontalna ravnina našega očesa in premica skozi opazovano točko.

/10

5) Kaj je azimut in kaj je kontraazimut?

/10

6) Napiši ali nariši kaj predstavlja posamezen topografski znak.

_____ prehodno močvirje kota /25

7) _____ so _____ krive črte, običajno _____ barve, ki povezujejo vse _____ z enako _____. Nastanejo tako, da npr. hrib presekamo z vodoravnimi, med seboj enako oddaljenimi ravninami.

/15

8) Pred nami je skalna stena. Čez koliko časa (min) bomo prišli do nje, če prehodimo vsako uro 5 km in se odmev vrne v 18 sekundah (hitrost zvoka je 350 m/s)? _____

/10