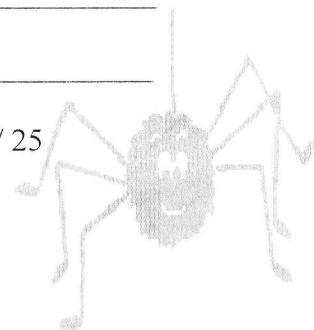


TOPOTEST JAKEC 2011 - B

EKIPA: _____

IME : _____

ŠTEVILO TOČK: _____ / 25



1. Kaj je azimut?

2. Kaj je reambulacija karte?

3. Katera razdalja je največja?

A: 2,7 cm na karti z M 1:25 000; B: 0,8 cm na karti z M 1:100 000; C: 6,5 cm na karti z M 1:10 000

4. Nariši topografske znake:

kamnolom	samostan	reka z otokom	sadovnjak	trigonometrična točka
----------	----------	---------------	-----------	-----------------------

5. Poimenuj topografske znake:



(m)



p.l.d.




TOPOTEST JAKEC 2011 - C

EKIPA: _____

IME : _____

ŠTEVILO TOČK: _____ / 25



1. Kaj so orientirji in čemu služijo?

2. Kako na karti prikazujemo relief?

3. Katera razdalja je najmanjša?

A: 2,7 cm na karti z M 1:25 000; B: 0,8 cm na karti z M 1:100 000; C: 6,5 cm na karti z M 1:10 000

4. Nariši topografske znake:


brezno	brv	reka z otokom	park	cisterna z občasno vodo
--------	-----	---------------	------	-------------------------

5. Poimenuj topografske znake:



375

p.l.d.



(rj)