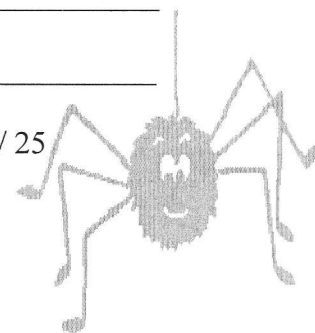


# TOPOTEST JAKEC<sup>2</sup> 2011 - C

EKIPA: \_\_\_\_\_

IME : \_\_\_\_\_

ŠTEVILO TOČK: \_\_\_\_\_ / 25



1. Za koliko stopinj se sonce navidezno premakne v eni uri?

2. Kako na karti prikazujemo relief?


3. Katera razdalja je najmanjša?

A: 2,7 cm na karti z M 1:25 000; B: 0,8 cm na karti z M 1:100 000; C: 6,5 cm na karti z M 1:10 000

4. Nariši topografske znake:

brezno	brv	reka z otokom	park	cisterna z občasno vodo

5. Poimenuj topografske znake:



(rj)




# TOPOTEST JAKEC<sup>2</sup> 2011 - C

EKIPA: \_\_\_\_\_

IME : \_\_\_\_\_

ŠTEVILO TOČK: \_\_\_\_\_ / 25



1. Za koliko stopinj se sonce navidezno premakne v eni uri?

2. Kako na karti prikazujemo relief?

3. Katera razdalja je najmanjša?

A: 2,7 cm na karti z M 1:25 000; B: 0,8 cm na karti z M 1:100 000; C: 6,5 cm na karti z M 1:10 000

4. Nariši topografske znake:

brezno	brv	reka z otokom	park	cisterna z občasno vodo

5. Poimenuj topografske znake:



(rj)

