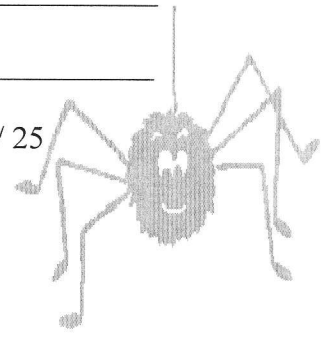


# TOPOTEST JAKEC<sup>2</sup> 2011 - E

EKIPA: \_\_\_\_\_

IME : \_\_\_\_\_

ŠTEVILO TOČK: \_\_\_\_\_ / 25



1. Kaj je reliefna energija?

2. Kaj so topografski znaki?

3. Na karti z merilom 1:25 000 smo od točke A do točke B izmerili 7 cm in 7 mm. Koliko je to (m) v naravi?

4. Nariši topografske znake:

cesta v gradnji	gramoznica	spomenik	manjši nasip	rudnik

5. Poimenuj topografske znake:



\_\_\_\_\_

\_\_\_\_\_

\_\_\_\_\_

\_\_\_\_\_

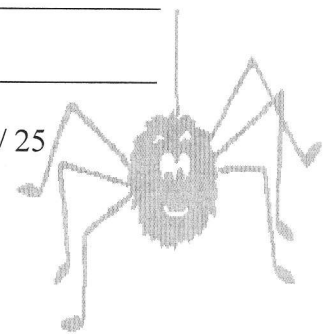
\_\_\_\_\_

# TOPOTEST JAKEC<sup>2</sup> 2011 - E

EKIPA: \_\_\_\_\_

IME : \_\_\_\_\_

ŠTEVILO TOČK: \_\_\_\_\_ / 25



1. Kaj je reliefna energija?


2. Kaj so topografski znaki?

3. Na karti z merilom 1:25 000 smo od točke A do točke B izmerili 7 cm in 7 mm. Koliko je to (m) v naravi?

4. Nariši topografske znake:

cesta v gradnji	gramoznica	spomenik	manjši nasip	rudnik

5. Poimenuj topografske znake:



\_\_\_\_\_

\_\_\_\_\_

\_\_\_\_\_

\_\_\_\_\_

\_\_\_\_\_