

1. Kolikšna je višinska razlika med točkama A in B, če je med njima 11 plastnic z ekvidistanco 10m?

A: 110m

B: 412,5m

C: 101m

D: 6,6km

2. Kaj je azimut in kaj kontra azimut?

3. Kaj so izohipse?

4. Nariši topografske znake:

občasno poplavljeno
zemljišče


Cisterna s stalno
pitno vodo

samostan

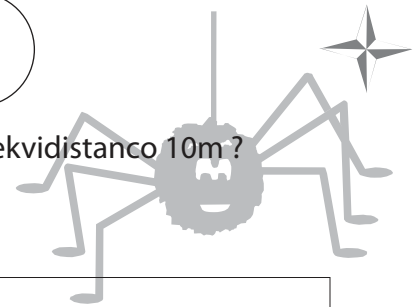
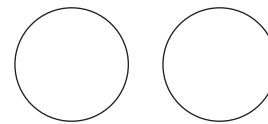
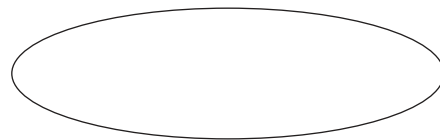
Most za pešce

Plinovod

5. Poimenuj topografske znake:



(r)



1. Kolikšna je višinska razlika med točkama A in B, če je med njima 11 plastnic z ekvidistanco 10m?

A: 110m

B: 412,5m

C: 101m

D: 6,6km

2. Kaj je azimut in kaj kontra azimut?

3. Kaj so izohipse?

4. Nariši topografske znake:

občasno poplavljeno
zemljišče

Cisterna s stalno
pitno vodo

samostan

Most za pešce

Plinovod

5. Poimenuj topografske znake:



(r)