

1. Razvrsti od najmanjšega (1) do največjega (3).

___ : 1,7cm na karti 1:250000 ___ : 60mm na karti 1:5000 ___ : 3,5 na karti 1:25000

2. Kakšne razdelitve kroga poznaš?

3. Kaj je generalizacija karte?

4. Nariši topografske znake:

Žična ograja

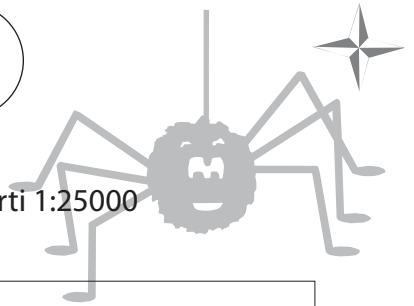
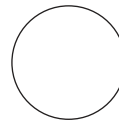
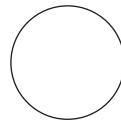
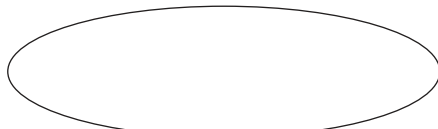
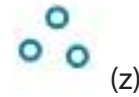
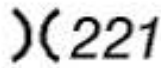
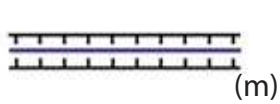
Močnejši izvir

Manjši nasip

Most za pešce

Plinovod

5. Poimenuj topografske znake:



1. Razvrsti od najmanjšega (1) do največjega (3).

___ : 1,7cm na karti 1:250000 ___ : 60mm na karti 1:5000 ___ : 3,5 na karti 1:25000

2. Kakšne razdelitve kroga poznaš?

3. Kaj je generalizacija karte?

4. Nariši topografske znake:

Žična ograja

Močnejši izvir

Manjši nasip

Most za pešce

Plinovod

5. Poimenuj topografske znake:

